

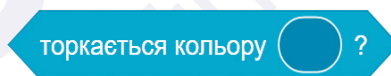
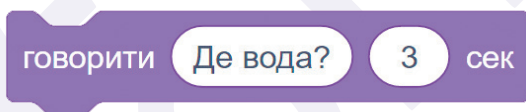
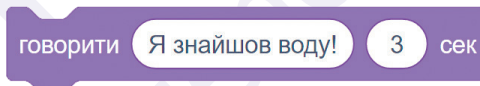
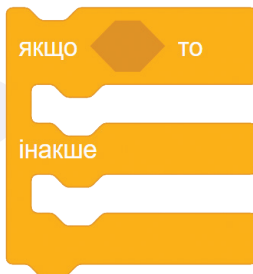


Практичне завдання 4.4

Kim шукає воду.
Намалюйте
такий фон.



Поставте блоки у правильному
порядку, щоб отримати результат,
як показано на малюнках нижче.



Практичне завдання 4.4



На вас чекає вікторина

Перейдіть за посиланням:



learningapps.org/watch?v=pdoa3zhbt23

