






Периметр квадрата і прямокутника

1. Обчисліть периметри поданих фігур.

Фігура	Периметр
 <p>12 см</p>	
 <p>9 м 4 м</p>	
 <p>8,5 см 2 см</p>	
 <p>8 см</p>	
 <p>7 см 13 см</p>	

2. Розв'яжіть задачу.

Пиріг, який спекла Орися, був прямокутної форми і мав периметр 85 см. Одна зі сторін цього прямокутника дорівнює 17 см. Знайдіть довжину іншої сторони пирога.

